


# Oddział Międzyuczelniany PTTK w Warszawie



Egzamin na Organizatora Turystyki PTTK – 15.06.2005 r.

Uwagi dla zdających:

Egzamin składa się z 21 pytań pogrupowanych w 6 działów.

Punktacja dla poszczególnych pytań została przedstawiona obok.

Zaliczenie egzaminu polega na uzyskaniu ze wszystkich działów, po co najmniej po 61 punktów.

Uprzejmie prosimy o udzielanie odpowiedzi tylko w ramach wyznaczonych do tego celu miejsc i o pisanie w sposób czytelny.

*Życzymy powodzenia*

*Komisja Szkoleniowa*

Architektura		
1		50
2		20
3		30
razem		100
Historia turystyki i PTTK		
4		20
5		10
6		30
7		20
8		20
razem		100
Pierwsza pomoc		
9		16
10		36
11		48
razem		100
Etnografia i budownictwo drewniane		
12		35
13		30
14		35
razem		100
Przyroda i ochrona przyrody		
15		32
16		12
17		33
18		23
razem		100
Geografia turystyczna Polski		
19		40
20		20
21		40
razem		100

## Architektura


### Pytanie 1



Opisz w co najwyżej 100 słowach obiekt przedstawiony na rysunku.

*Uwaga: sprawdzający będzie czytał odpowiedź tylko do setnego słowa.*

## Pytanie 2



Zidentyfikuj i nazwij 10 elementów budynku zaznaczając je także na rysunku.

A		F	
B		G	
C		H	
D		I	
E		J	

## Pytanie 3

Wybierz trzy elementy budynku zidentyfikowane w odpowiedzi na poprzednie pytanie i dla każdego z nich podaj opis jego funkcji.

	nazwa	funkcja
1.		
2.		
3.		

## Historia turystyki i PTTK

### Pytanie 4

Zidentyfikuj odznaki turystyki kwalifikowanej i krajoznawcze przedstawione poniżej:

### Pytanie 5

Opisz krótko uprawnienia Organizatora Turystyki PTTK.

1.	
2.	

### Pytanie 6

Wymień nazwy i określ położenie (grupa górską) trzech studenckich baz namiotowych.

--	--	--

**Pytanie 7**

Opisz krótko, czym dla polskiej turystyki zasłużyli się:

Tytus Chałubiński	
Mieczysław Orłowicz	
Józef Nyka	
Hugo Zapałowicz	
Mariusz Zaruski	

**Pytanie 8**

Przypisz do dat w zamieszczonych w poniższej tabeli następujące wydarzenia:

- 1 Beata z Kościeleckich Łaska odbywa wycieczkę z Kieżmarku do Zielonego Stawu,
- 2 otwarcie 20 przejść turystycznych na granicy polsko-czeskiej (3 w Beskidzie Śląskim, reszta w Sudetach),
- 3 powstaje Górskiego Ochotniczego Pogotowia Ratunkowego,
- 4 powstaje Polskie Towarzystwo Turystyczno-Krajoznawcze (PTTK),
- 5 ks. Stanisław Staszic wchodzi na Babią Górę,
- 6 w Warszawie powstaje Polskie Towarzystwo Krajoznawcze,
- 7 w Zakopanem powstaje (Galicyjskie) Towarzystwo Tatrzańskie,
- 8 Walery Eliasz-Radzikowski znakuje (jednym paskiem koloru cynobrowego) pierwszy szlak turystyczny w Tatrach: przez Psią Trawkę i Pol. Waksmundzką do Morskiego Oka,
- 9 z inicjatywy Hugona Zapałowicza Oddział Babiogórski TT buduje schronisko na Markowych Szczawinach pod Babią Górą,
- 10 z inicjatywy Mariusza Zaruskiego i Mieczysława Karłowicza powstało Tatrzańskie Ochotnicze Pogotowie Ratunkowe.

<b>1565</b>	<b>1805</b>	<b>1873</b>	<b>1887</b>	<b>1906</b>
<b>1906</b>	<b>1909</b>	<b>1950</b>	<b>1952</b>	<b>1996</b>

## Pierwsza pomoc

### Pytanie 9

Jakie informacje powinien zawierać meldunek o wypadku w górach?

--

### Pytanie 10

Wymień pięć numerów telefonów alarmowych i podaj, z jaką służbą w każdym z przypadków się połączysz.

numer telefonu	służba

### Pytanie 11

Postaw się w roli kierownika wyjazdu i wypełnij poniższą tabelę określając sposoby zapobiegania i minimalizowania skutków wystąpienia poszczególnych przypadłości u uczestników wyjazdu:

przypadłość	profilaktyka	„leczenie”
zawroty głowy, podwyższona temperatura i nudności u jednego z uczestników (w upalny dzień)		
poparzenie słoneczne ramion		
wymioty i ból brzucha u połowy uczestników		
otarcie pleców u jednego z uczestników		

## Etnografia i budownictwo drewniane

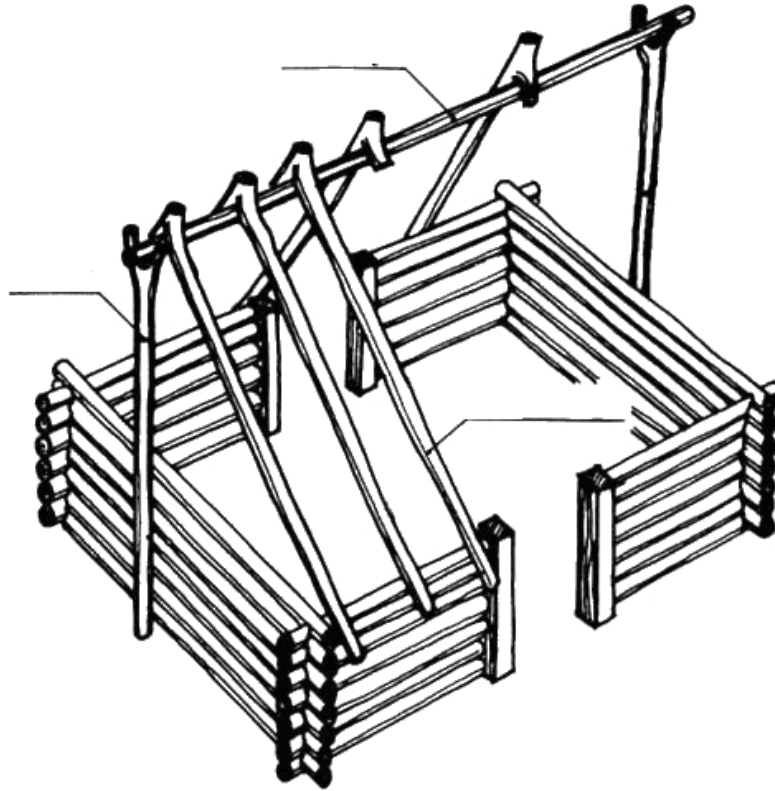
### Pytanie 12



Opisz w co najwyżej 100 słowach obiekt przedstawiony na rysunku uwzględniając jego konstrukcję.  
*Uwaga: sprawdzający będzie czytał odpowiedź tylko do setnego słowa.*

**Pytanie 13**

Określ, jaki typ więzby dachowej jest przedstawiony na rysunku, oraz zaznacz na nim wszystkie elementy wymienione w tabeli poniżej.



więzba dachowa typu:			
A	ślemię	B	socha
C	kluczyna		

**Pytanie 14**

Scharakteryzuj dowolnie wybraną z podanych mniejszości: Łemkowie, Kaszubi, Żydzi, Niemcy — uwzględniając m.in. język, wyznania, rejony zamieszkania (obecnie i w przeszłości), charakterystyczne cechy kultury, zabytki itp.



## Przyroda i ochrona przyrody

### Pytanie 15

W jakich sytuacjach można legalnie przejść z grupą przez rezerwat przyrody bez szlaku:


### Pytanie 16

Opisz podstawowe różnice w sposobie ochrony przyrody w parku narodowym i w rezerwacie przyrody.

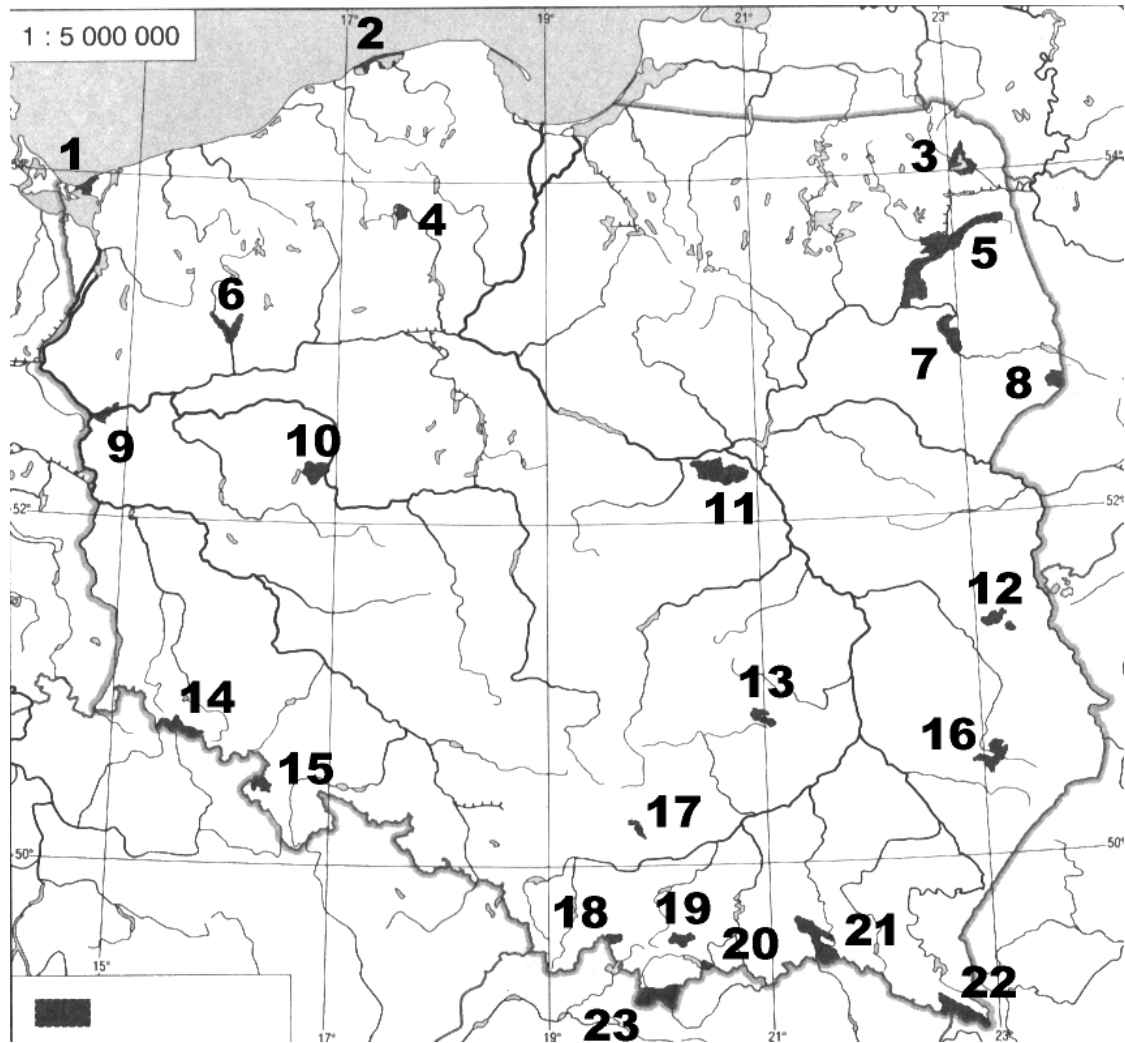
--

### Pytanie 17

Opisz zjawisko występowania w górach pięter roślinności na znanym Ci przykładzie:

--

## Pytanie 18



Podaj nazwy zaznaczonych na mapie parków narodowych:

1.		13.	
2.		14.	
3.		15.	
4.		16.	
5.		17.	
6.		18.	
7.		19.	
8.		20.	
9.		21.	
10.		22.	
11.		23.	
12.			

## Geografia turystyczna Polski

### Pytanie 19

Zaznacz na poniższej mapie Polski położenie *dwudziestu* wybranych z poniższej listy miejsc:



1.	Barania Góra (1220)	13.	Kórnik
2.	Busko Zdrój	14.	Łeba
3.	Czersk	15.	Nałęczów
4.	Elbląg	16.	Panorama Ractawicka
5.	Golub-Dobrzyń	17.	Przemysł
6.	Góry Stołowe	18.	Sulejów
7.	Inowrocław	19.	Tarnów
8.	Jez. Łebsko	20.	ujście Pilicy
9.	Jez. Sulejowskie	21.	Wały Chrobrego
10.	Kalwaria Zebrzydowska	22.	Węgorzewo
11.	Kartuzy	23.	Zakopane
12.	Kłodzko	24.	Żelazowa Wola

**Pytanie 20**

Wymień nazwy pięciu skansenów w Polsce oraz miejscowości, w których się one znajdują.

1	
2	
3	
4	
5	

**Pytanie 21**

Podaj dziesięć szczytów Korony Gór Polski.

	szczyt	pasmo
1		
2		
3		
4		
5		
6		
7		
8		
9		
10		